




Kategoria GONIEC


ZADANIE NR 7

Jaki jest najlepszy ruch czarnych?




ZADANIE NR 8

Który ruch białych prowadzi do zdobycia przez nie co najmniej wieży?




ZADANIE NR 9

Które poświęcenie białego prowadzi do jego wygranej?




ZADANIE NR 10

Jaki jest najlepszy ruch białych?




ZADANIE NR 11

Jaki jest najlepszy ruch czarnych?




ZADANIE NR 12

Który ruch białych prowadzi do zdobycia przez nie przewagi materialnej?




ZADANIE NR 13

Jaki jest najlepszy ruch białych?



ZADANIE NR 14

Który ruch czarnych prowadzi do zdobycia przez nie co najmniej gońca?






Kategoria GONIEC


ZADANIE NR 15

Który ruch czarnych prowadzi do zdobycia przez nie co najmniej gońca?




ZADANIE NR 16

Jaki jest najlepszy ruch białych?




ZADANIE NR 17

Jak najlepiej białe powinny zareagować na szacha?




ZADANIE NR 18

Jaki jest najlepszy ruch białych?




ZADANIE NR 19

Jaki jest najlepszy ruch czarnych?




ZADANIE NR 20

Który ruch białych prowadzi do zdobycia przez nie co najmniej wieży?




ZADANIE NR 21

Który ruch czarnych prowadzi do zdobycia przez nie hetmana?



ZADANIE NR 22

Jaki jest najlepszy ruch czarnych?






Kategoria GONIEC


ZADANIE NR 23

Jaki jest najlepszy ruch czarnych?




ZADANIE NR 24

Jaki jest najlepszy ruch czarnych?




ZADANIE NR 25

Jaki jest najlepszy ruch białych?




ZADANIE NR 26

Przy najlepszej grze obu stron, po jakim ruchu czarnych, dadzą one mata w 3-im posunięciu?




ZADANIE NR 27

Jaki jest najlepszy ruch czarnych?




ZADANIE NR 28

Jaki jest najlepszy ruch czarnych?



ZADANIE NR 29

Jaki jest najlepszy ruch czarnych?



ZADANIE NR 30

Jaki jest najlepszy ruch białych?

