

Konkurs Konik Szachowy


# Kategoria Pionek kl. 1, 2 i 3 SP

Przed Tobą 30 zadań, po 10 za 3, 4 i 5 pkt, brak lub niepoprawna odpowiedź oznacza 0 punktów.  
Maksymalny wynik do zdobycia to 120 pkt.

KONIK SZACHOWY EXTRA 27 MARCA 2025


## ZADANIE NR 1

Jaki jest najlepszy ruch czarnych?




## ZADANIE NR 2

Który ruch czarnych prowadzi do zdobycia przez nie hetmana?




## ZADANIE NR 3

Który ruch białych prowadzi do zdobycia przez nie przewagi materialnej?




## ZADANIE NR 4

Jaki jest najlepszy ruch czarnych?




## ZADANIE NR 5

Jaki jest najlepszy ruch białych?



## ZADANIE NR 6

Jaki jest najlepszy ruch białych?



TO JEST PIERWSZA STRONA TESTU

PEŁNY TESTOWY FORMULARZ DO POBRANIA Z PANELU KOORDYNATORA KONKURSU  
proszę się zwrócić do nauczyciela koordynującego konkurs w szkole