



Konkurs Konik Szachowy

Kategoria Goniec kl. 4,5 i 6 SP


Przed Tobą 30 zadań, po 10 za 3,4 i 5 pkt. Na starcie otrzymujesz 30 pkt, za nieprawidłową odpowiedź odejmowana jest ¼ punktów przysługujących za zadanie, brak odpowiedzi oznacza 0 punktów. Maksymalny wynik do zdobycia to 150pkt.



ZADANIE NR 1

Po którym ruchu czarne na pewno zdobędą skoczka?


- A Wh3 B Kg6 C Gf4 D b:c3 E Wf4



ZADANIE NR 2

Jaki jest najlepszy ruch białych?


- A c4 B G:f4 C Sd2 D H:g6 E He6



ZADANIE NR 3

Jaki jest najlepszy ruch czarnych?


- A S:g2 B Gd7 C H:c3 D Sc4 E Sc2



ZADANIE NR 4

Który ruch białych prowadzi do zdobycia przez nie co najmniej gońca?


- A S:f6 B H:g4 C f6 D S:c7 E Sa4



ZADANIE NR 5

Które poświęcenie białych daje im przewagę?


- A Ge4 B Gf4 C Hh5 D G:h7 E Gc4



ZADANIE NR 6

Jaki jest najlepszy ruch białych?

- A Wad1 B Whd1 C H:b6 D Ha7 E Kf1






KATEGORIA
GONIEC
KL. 4, 5 I 6 SP

ZADANIE NR 7

Po którym ruchu białe na pewno zdobędą hetmana?


- | | | | | |
|------------------|------------------|-----------------|------------------|----------------|
| A
G:e5 | B
H:b6 | C
Gd4 | D
G:d5 | E
a4 |
|------------------|------------------|-----------------|------------------|----------------|



ZADANIE NR 8

Białe mogą dać nieuchronnego mata w drugim posunięciu po?


- | | | | | |
|-----------------|----------------|-----------------|-----------------|-----------------|
| A
Gf6 | B
g5 | C
Gg5 | D
We5 | E
Gf2 |
|-----------------|----------------|-----------------|-----------------|-----------------|



ZADANIE NR 9

Które poświęcenie czarnych daje im przewagę?


- | | | | | |
|------------------|------------------|-----------------|------------------|------------------|
| A
W:g4 | B
S:e4 | C
Ge2 | D
H:h3 | E
S:g4 |
|------------------|------------------|-----------------|------------------|------------------|



ZADANIE NR 10

Po którym ruchu czarne na pewno zdobędą wieżę?

- | | | | | |
|-----------------|------------------|-----------------|----------------|-----------------|
| A
He3 | B
W:d7 | C
Hf3 | D
h5 | E
Hc2 |
|-----------------|------------------|-----------------|----------------|-----------------|



ZADANIE NR 11

Jaki jest najlepszy ruch czarnych?


- | | | | | |
|------------------|----------------|-----------------|-----------------|----------------|
| A
W:f1 | B
h6 | C
We8 | D
Wf5 | E
c6 |
|------------------|----------------|-----------------|-----------------|----------------|



ZADANIE NR 12

Jaki jest najlepszy ruch białych?


- | | | | | |
|------------------|------------------|------------------|------------------|-----------------|
| A
H:e5 | B
G:f6 | C
W:f6 | D
H:a7 | E
Kd3 |
|------------------|------------------|------------------|------------------|-----------------|



ZADANIE NR 13

Jaki jest najlepszy ruch czarnych?


- | | | | | |
|-----------------|----------------|-----------------|-----------------|-----------------|
| A
Ge7 | B
c5 | C
Ge5 | D
Sf4 | E
Ga6 |
|-----------------|----------------|-----------------|-----------------|-----------------|



ZADANIE NR 14

Czarny wygra po ruchu?

- | | | | | |
|-----------------|-----------------|-----------------|-----------------|-------------------|
| A
Kg3 | B
Kg4 | C
Kf4 | D
Kf2 | E
żadna |
|-----------------|-----------------|-----------------|-----------------|-------------------|






KATEGORIA
GONIEC
KL. 4, 5 I 6 SP

ZADANIE NR 15

Jaki jest najlepszy
ruch czarnych?

- | | | | | |
|------------------|------------------|----------------|-----------------|-----------------|
| A
W:h2 | B
G:f5 | C
f6 | D
Hh4 | E
Ge5 |
|------------------|------------------|----------------|-----------------|-----------------|



ZADANIE NR 16

Po którym ruchu czarne na pewno
zdobędą wieżę?


- | | | | | |
|------------------|-----------------|------------------|----------------|-----------------|
| A
Wcg7 | B
Wh1 | C
Whg7 | D
a4 | E
Wc2 |
|------------------|-----------------|------------------|----------------|-----------------|



ZADANIE NR 17

Jaki jest najlepszy
ruch czarnych?


- | | | | | |
|-----------------|-----------------|-----------------|------------------|-----------------|
| A
Sf2 | B
0-0 | C
Wc1 | D
W:d2 | E
Hg1 |
|-----------------|-----------------|-----------------|------------------|-----------------|



ZADANIE NR 18

Po którym ruchu czarne na pewno
zdobędą hetmana?


- | | | | | |
|-----------------|-----------------|-----------------|-----------------|-------------------|
| A
Kh7 | B
Kf7 | C
We8 | D
He8 | E
żadna |
|-----------------|-----------------|-----------------|-----------------|-------------------|



ZADANIE NR 19

Która obrona białych prowadzi do ich
zwycięstwa?


- | | | | | |
|-----------------|-----------------|-----------------|-----------------|-------------------|
| A
Kg2 | B
Kh2 | C
Hc1 | D
Wf1 | E
żadna |
|-----------------|-----------------|-----------------|-----------------|-------------------|



ZADANIE NR 20

Która obrona czarnych prowadzi do ich
przewagi?


- | | | | | |
|----------------|----------------|-----------------|-----------------|-------------------|
| A
b5 | B
c6 | C
Gd7 | D
Kf8 | E
żadna |
|----------------|----------------|-----------------|-----------------|-------------------|



ZADANIE NR 21

Jaki jest najlepszy
ruch białych?


- | | | | | |
|------------------|----------------|-----------------|-----------------|------------------|
| A
d:e5 | B
h4 | C
Ge2 | D
Gc2 | E
G:g5 |
|------------------|----------------|-----------------|-----------------|------------------|



ZADANIE NR 22

Która obrona białych prowadzi do ich
przewagi?

- | | | | | |
|------------------|-----------------|-----------------|-----------------|-------------------|
| A
H:g4 | B
Hf4 | C
Ke3 | D
Kc5 | E
żadna |
|------------------|-----------------|-----------------|-----------------|-------------------|





KATEGORIA
GONIEC
KL. 4, 5 I 6 SP

ZADANIE NR 23

Jaki jest najlepszy
ruch czarnych?

A W:h3	B e4	C Wf4	D Wh6	E Wc4
------------------	----------------	-----------------	-----------------	-----------------

H G F E D C B A

1
2
3
4
5
6
7
8

H G F E D C B A

ZADANIE NR 24

Jaki jest najlepszy
ruch czarnych?

A Hf4	B Hc3	C Hb5	D He1	E Hh4
-----------------	-----------------	-----------------	-----------------	-----------------

H G F E D C B A

1
2
3
4
5
6
7
8

H G F E D C B A

ZADANIE NR 25

Jaki jest najlepszy
ruch białych?

A G:d8	B W:d7	C H:e5	D He3	E Hg3
------------------	------------------	------------------	-----------------	-----------------

A B C D E F G H

8
7
6
5
4
3
2
1

A B C D E F G H

ZADANIE NR 26

Jaki jest najlepszy
ruch białych?

A Wc4	B Wd1	C We8	D We7	E Wd2
-----------------	-----------------	-----------------	-----------------	-----------------

A B C D E F G H

8
7
6
5
4
3
2
1

A B C D E F G H

ZADANIE NR 27

Który z podanych ruchów czarnych jest
najgorszy?

A S:e5	B d:e5	C G:d1	D Hh4	E Ge6
------------------	------------------	------------------	-----------------	-----------------

H G F E D C B A

8
7
6
5
4
3
2
1

H G F E D C B A

ZADANIE NR 28

Jaki jest najlepszy
ruch czarnych?

A S:f3	B H:h2	C Hg5	D Hh6	E Hd8
------------------	------------------	-----------------	-----------------	-----------------

H G F E D C B A

8
7
6
5
4
3
2
1

H G F E D C B A

ZADANIE NR 29

Jaki jest najlepszy
ruch białych?

A Sf4	B H:f5	C Sg3	D Whf1	E Wef1
-----------------	------------------	-----------------	------------------	------------------

A B C D E F G H

8
7
6
5
4
3
2
1

A B C D E F G H

ZADANIE NR 30

Jaki jest najlepszy
ruch białych?

A Hc3	B Wd1	C Kh1	D a4	E f3
-----------------	-----------------	-----------------	----------------	----------------

A B C D E F G H

8
7
6
5
4
3
2
1

A B C D E F G H